

LIVE @ 8:30PM

 **YouTube**



SUBSCRIBE

MAT PAPERS

SAT

**PREVIOUS EXAM
QUESTIONS**

राष्ट्रीय साधन व योग्यता छात्रवृत्ति NMMSS परीक्षा 2025



PDF

19. वेन आरेख

**(VENN DIAGRAM)-PART-II
ANALYSIS VENN DIAGRAM**

PART - 1 (भाग - 1) MENTAL ABILITY TEST

(बौद्धिक योग्यता परीक्षण)




रख हौसला वह मंजर भी आएगा प्यासे के पास
चलकर समंदर भी आएगा ,
थक कर ना बैठे मंजिल के मुसाफिर मंजिल भी
मिलेगी और मिलने का मजा भी आएगा ।


19. वेन आरेख (VENN - DIAGRAM)

2. विश्लेषणात्मक वेन आरेख पर आधारित प्रश्नविश्लेषणात्मक वेन आरेख (Analysis venn diagram) के अन्तर्गत पूछे जाने वाले प्रश्नों में एक-दूसरे से संयुक्त कछ आरेख दिए जाते हैं, प्रत्येक आरेख अलग-अलग वर्ग के द्योतक होते हैं। जिनमें अन्दर विभिन्न स्थानों पर भिन्न-भिन्न संख्याओं अथवा अक्षरों को निरूपित किया गया होता है। अभ्यर्थियों को उन्हीं आरेख या उसके अन्दर दी गई संख्याओं के माध्यम से किसी विशेष वर्ग में आने वाली वस्तुओं की संख्या अथवा वस्तुओं को प्रश्नानुसार ज्ञात करना होता है।




19. वेन आरेख (VENN - DIAGRAM)




19. वेन आरेख (VENN - DIAGRAM)



19. वेन आरेख (VENN - DIAGRAM)



19. वेन आरेख (VENN - DIAGRAM)



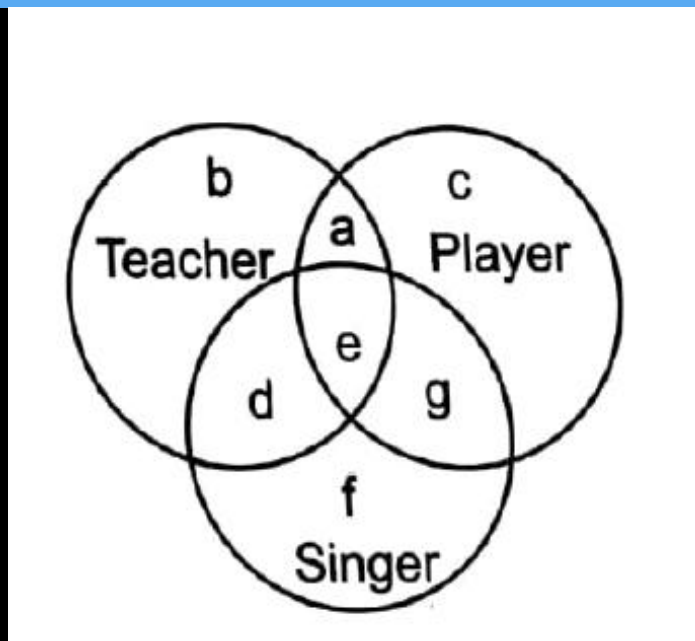
19. वेन आरेख (VENN - DIAGRAM)

NMMSS - 2016

नीचे दिए गए चित्र में तीन वृत्त दिए गए हैं, जो कि आपस में काटते हैं तथा लोगों के खास वर्ग का प्रतिनिधित्व करते हैं। अलग-अलग क्षेत्रों को **a** से **g** तक • दर्शाया गया है। प्रश्नों में दिए गए कथनों को पढ़ें एवं उस वर्ण को चुनें जो कथन में वर्णित लोगों को दर्शाता है।

1. अध्यापक जो गायक नहीं है परन्तु खिलाड़ी हैं।

- A** a
- B** b
- C** c
- D** d



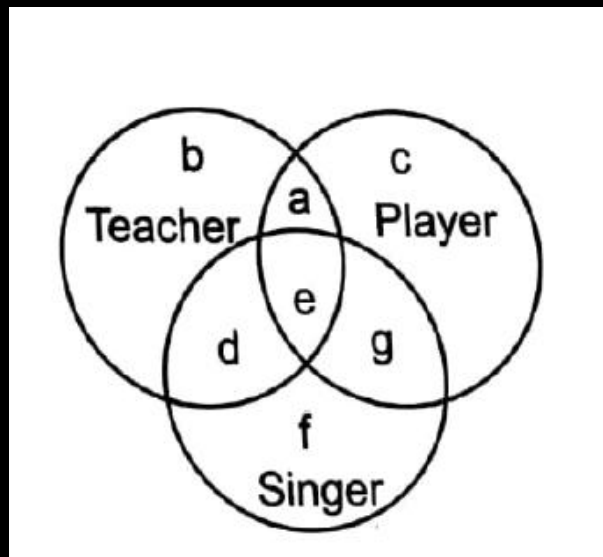
19. वेन आरेख (VENN - DIAGRAM)

NMMSS - 2016

नीचे दिए गए चित्र में तीन वृत्त दिए गए हैं, जो कि आपस में काटते हैं तथा लोगों के खास वर्ग का प्रतिनिधित्व करते हैं। अलग-अलग क्षेत्रों को **a** से **g** तक • दर्शाया गया है। प्रश्नों में दिए गए कथनों को पढ़ें एवं उस वर्ण को चुनें जो कथन में वर्णित लोगों को दर्शाता है।

2. खिलाड़ी जो न गायक है और न ही अध्यापक ।

- A** a
- B** b
- C** c
- D** d



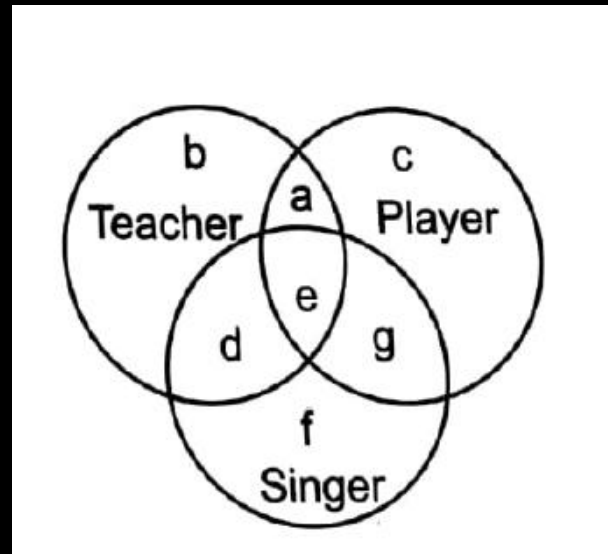
19. वेन आरेख (VENN - DIAGRAM)

NMMSS - 2016

नीचे दिए गए चित्र में तीन वृत्त दिए गए हैं, जो कि आपस में काटते हैं तथा लोगों के खास वर्ग का प्रतिनिधित्व करते हैं। अलग-अलग क्षेत्रों को **a** से **g** तक • दर्शाया गया हैं। प्रश्नों में दिए गए कथनों को पढ़ें एवं उस वर्ण को चुने जो कथन में वर्णित लोगों को दर्शाता

3. अध्यापक जो गायक हैं परन्तु खिलाड़ी नहीं है।

- A** a
- B** b
- C** c
- D** d

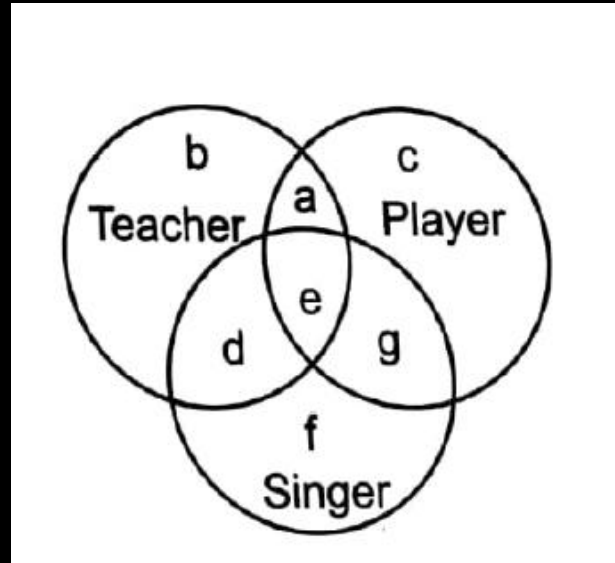


19. वेन आरेख (VENN - DIAGRAM)

नीचे दिए गए चित्र में तीन वृत्त दिए गए हैं, जो कि आपस में काटते हैं तथा लोगों के खास वर्ग का प्रतिनिधित्व करते हैं। अलग-अलग क्षेत्रों को **a** से **g** तक • दर्शाया गया है। प्रश्नों में दिए गए कथनों को पढ़ें एवं उस वर्ण को चुनें जो कथन में वर्णित लोगों को दर्शाता है।

4. अध्यापक जो खिलाड़ी भी है और गायक भी।

- A**
- B**
- C**
- D**



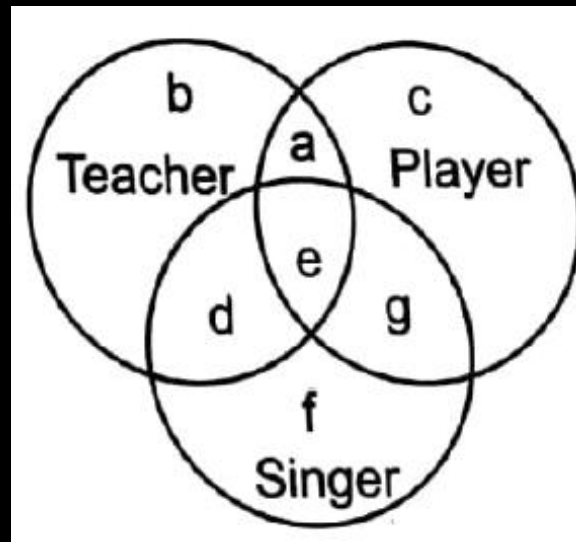
19. वेन आरेख (VENN – DIAGRAM)

NMMSS - 2016

नीचे दिए गए चित्र में तीन वृत्त दिए गए हैं, जो कि आपस में काटते हैं तथा लोगों के खास वर्ग का प्रतिनिधित्व करते हैं। अलग-अलग क्षेत्रों को **a** से **g** तक • दर्शाया गया है। प्रश्नों में दिए गए कथनों को पढ़ें एवं उस वर्ण को चुनें जो कथन में वर्णित लोगों को दर्शाता है।

5. खिलाड़ी जो गायक हैं परन्तु अध्यापक नहीं।

- A**
- B**
- C**
- D**



LIVE @ 8:30PM



SUBSCRIBE

MAT PAPERS

SAT

PREVIOUS EXAM
QUESTIONS

राष्ट्रीय साधन व योग्यता छात्रवृत्ति NMMSS परीक्षा 2025

कक्षा-8

PDF

पाठ्यक्रम का सम्पूर्ण कवरेज...

भाग 1 मानसिक योग्यता परीक्षण (**MAT**)

भाग 2 शैक्षिक क्षमता परीक्षण (**SAT**) विज्ञान • गणित सामाजिक विज्ञान

PYQ 2024 TO 2014

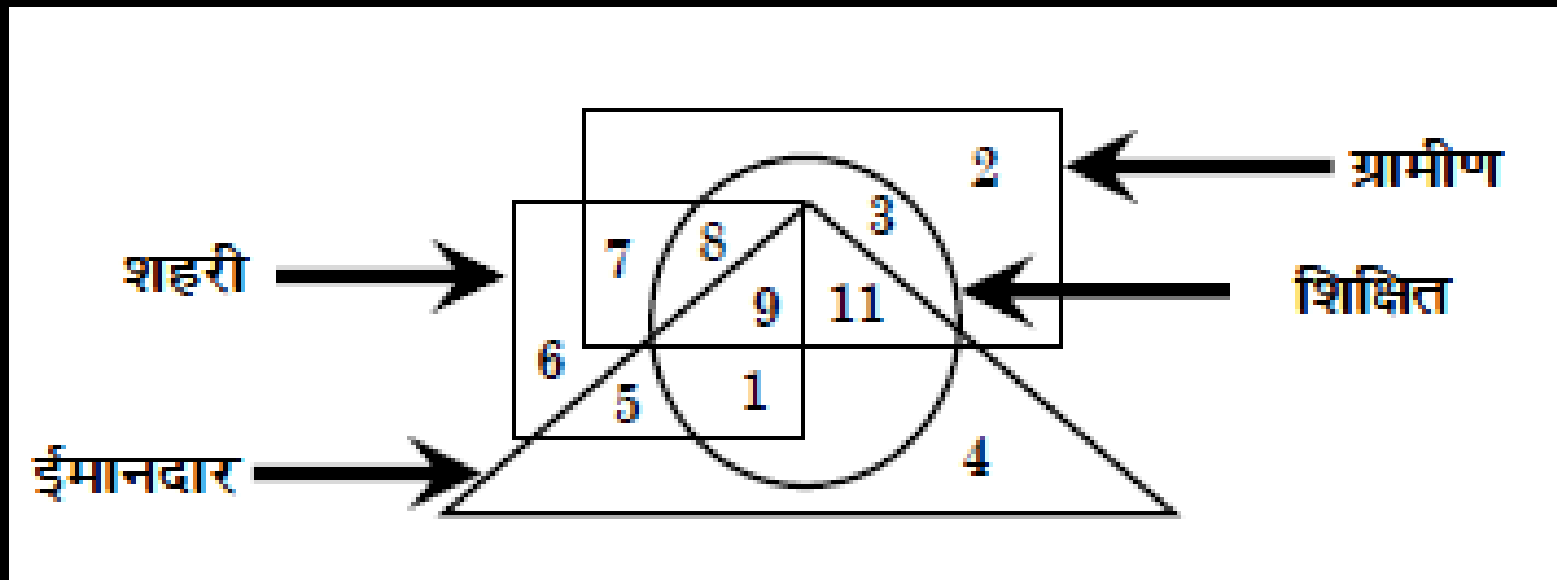
19. वेन आरेख (VENN - DIAGRAM)

NMMSS - 2024

निम्न चित्र को ध्यानपूर्वक देखें तथा दिए हुए प्रश्नों के उत्तर दें।

1. वे लोग जो शिक्षित, ग्रामीण और ईमानदार लेकिन शहरी नहीं हैं, किस अंक द्वारा प्रदर्शित किए गए हैं ?

- A** 7
- B** 3
- C** 11
- D** 8

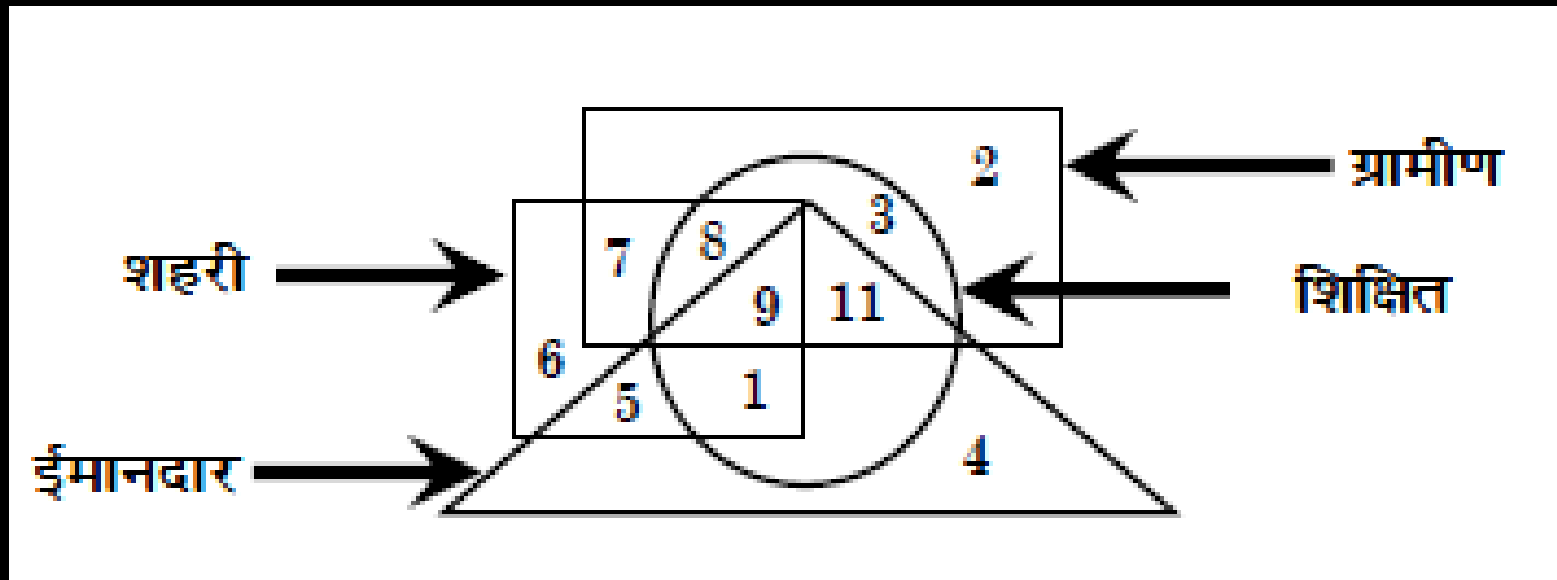


19. वेन आरेख (VENN - DIAGRAM)

निम्न चित्र को ध्यानपूर्वक देखें तथा दिए हुए प्रश्नों के उत्तर दें।

2. वे लोग जो शहरी, शिक्षित और ग्रामीण हैं लेकिन ईमानदार नहीं हैं, किस अंक द्वारा प्रदर्शित किए गए हैं ?

- A** 7
- B** 8
- C** 9
- D** 11



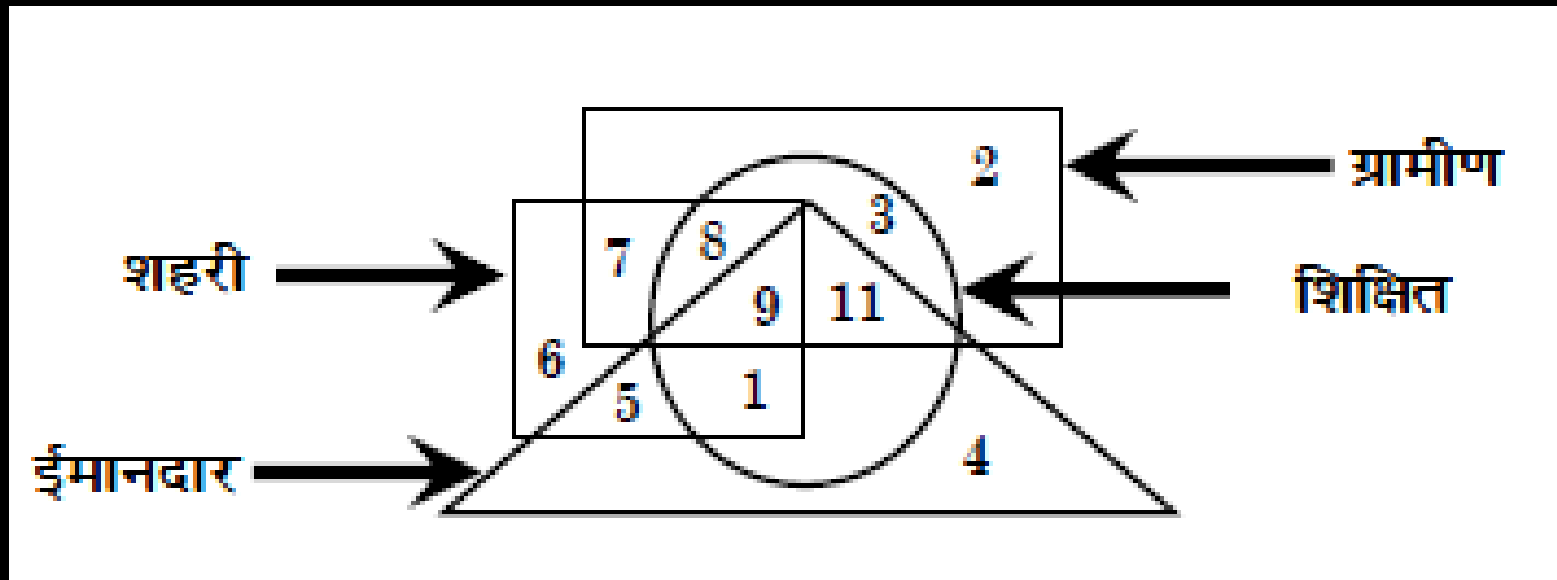
19. वेन आरेख (VENN - DIAGRAM)

NMMSS - 2024

निम्न चित्र को ध्यानपूर्वक देखें तथा दिए हुए प्रश्नों के उत्तर दें।

3. वे लोग जो शिक्षित, शहरी और ईमानदार हैं लेकिन ग्रामीण नहीं हैं, किस अंक द्वारा प्रदर्शित किए गए हैं ?

- A** 11
- B** 8
- C** 9
- D** 1



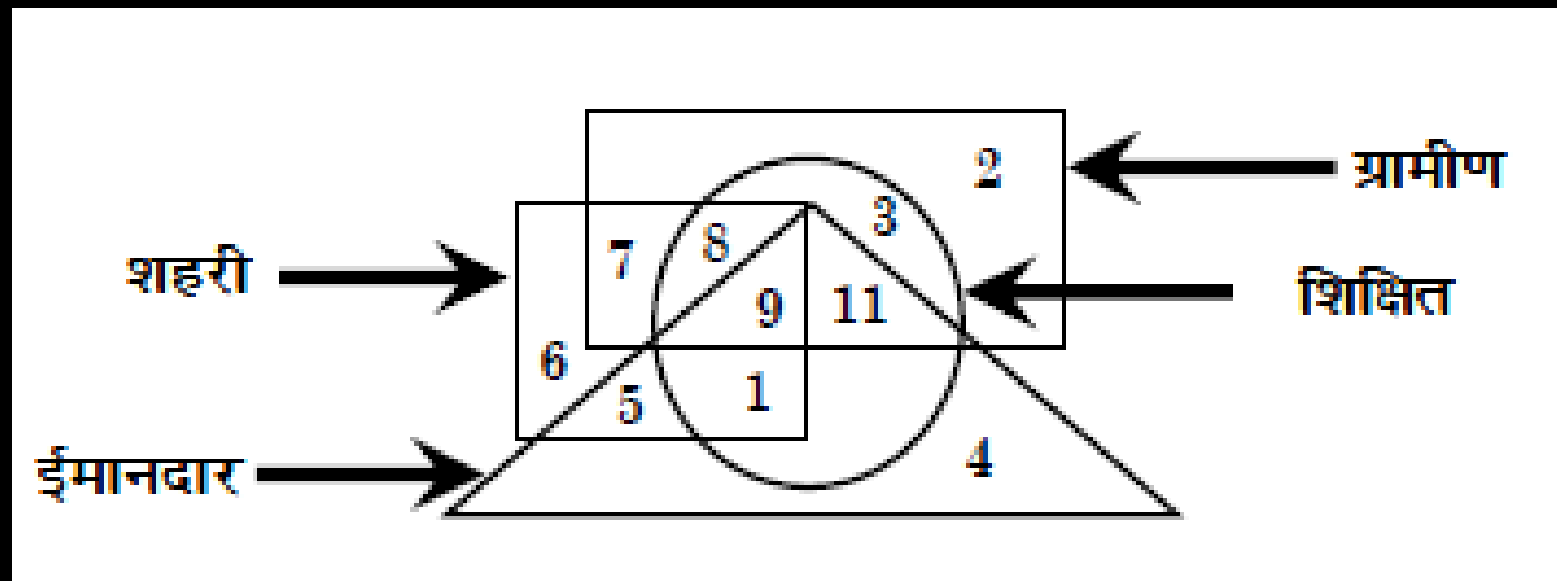
19. वेन आरेख (VENN - DIAGRAM)

NMMSS - 2024

निम्न चित्र को ध्यानपूर्वक देखें तथा दिए हुए प्रश्नों के उत्तर दें।

4. वे लोग जो ग्रामीण, शिक्षित, ईमानदार और शहरी हैं, किस अंक द्वारा प्रदर्शित किए गए हैं ?

- A 9
- B 11
- C 1
- D 7



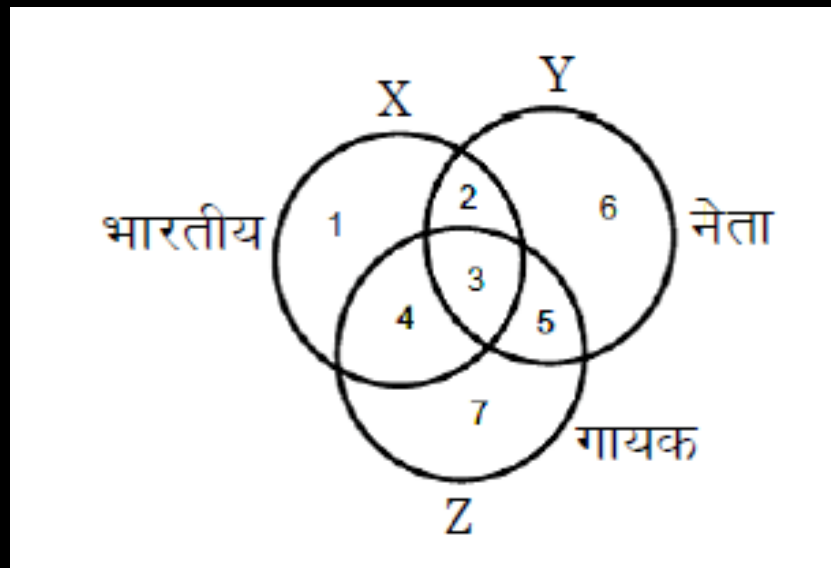
19. वेन आरेख (VENN - DIAGRAM)

NMMSS - 2023

निम्न चित्र को ध्यानपूर्वक देखें तथा दिए हुए प्रश्नों के उत्तर दें।

1. कौन-सा क्षेत्र भारतीय नेताओं को प्रदर्शित करता है जो गायक नहीं हैं ?

- A** 2
- B** 3
- C** 4
- D** 5



19. वेन आरेख (VENN - DIAGRAM)

NMMSS - 2023

निम्न चित्र को ध्यानपूर्वक देखें तथा दिए हुए प्रश्नों के उत्तर दें।

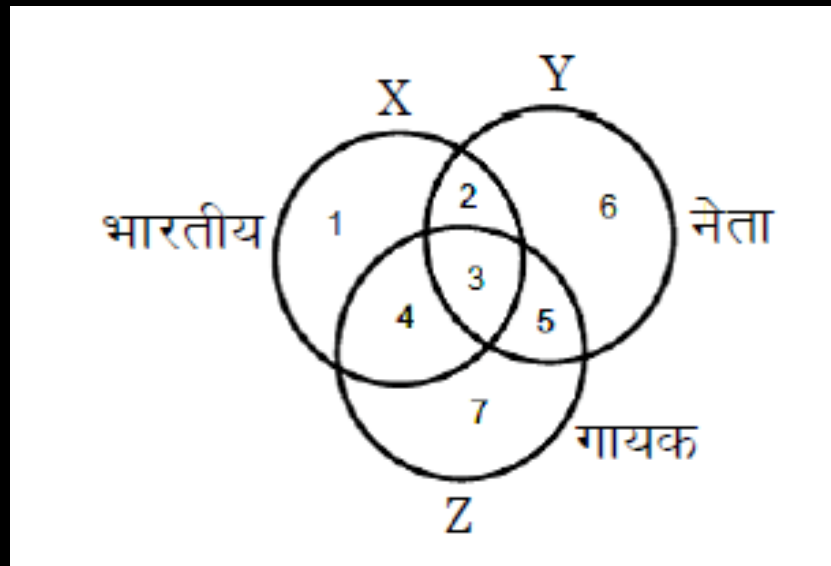
2. कौन-सा क्षेत्र भारतीय नेताओं को प्रदर्शित करता है जो गायक हैं ?

A 2

B 3

C 4

D 5



19. वेन आरेख (VENN - DIAGRAM)

NMMSS - 2023

निम्न चित्र को ध्यानपूर्वक देखें तथा दिए हुए प्रश्नों के उत्तर दें।

3. कौन-सा क्षेत्र नेताओं को प्रदर्शित करता है जो न तो गायक हैं और न ही भारतीय ?

A

2

B

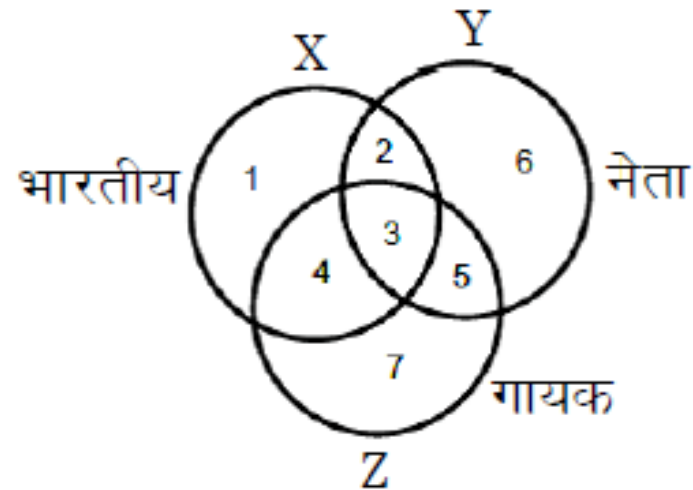
3

C

6

D

7



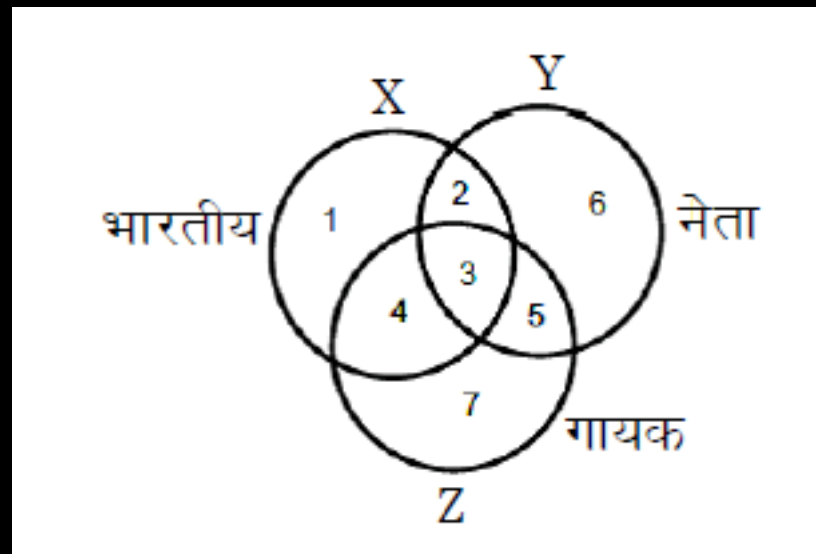
19. वेन आरेख (VENN - DIAGRAM)

NMMSS - 2023

निम्न चित्र को ध्यानपूर्वक देखें तथा दिए हुए प्रश्नों के उत्तर दें।

4. कौन-सा क्षेत्र भारतीय गायकों को प्रदर्शित करता है जो नेता नहीं हैं ?

- A** 1
- B** 2
- C** 3
- D** 4



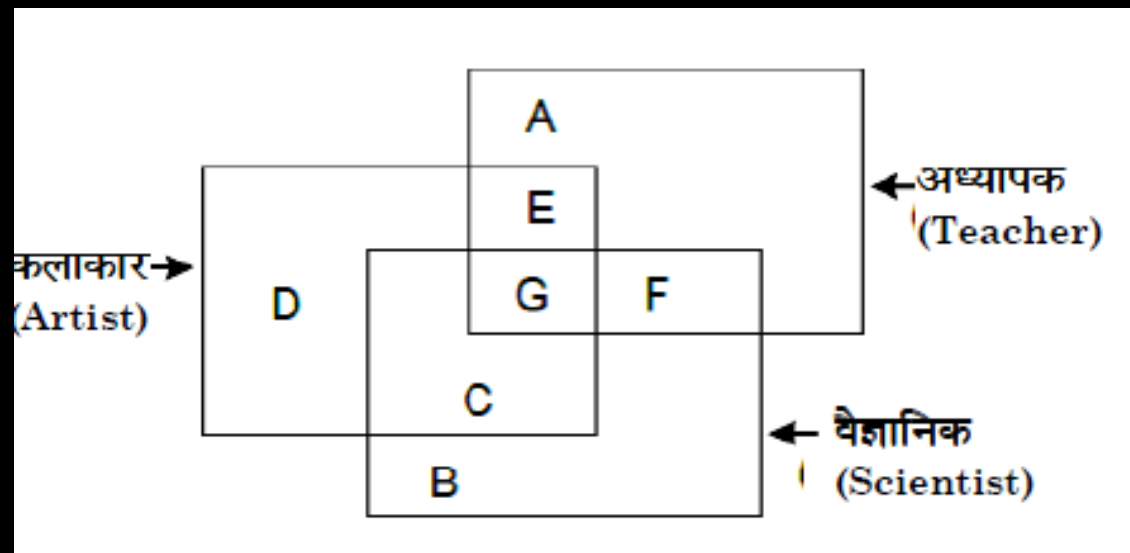
19. वेन आरेख (VENN - DIAGRAM)

NMMSS - 2022

निम्न चित्र को ध्यानपूर्वक देखें तथा दिए हुए प्रश्नों के उत्तर दें।

5. वे अध्यापक जो वैज्ञानिक नहीं हैं, परन्तु कलाकार हैं, किस अक्षर द्वारा प्रदर्शित किए गए हैं ?

- A** D
- B** F
- C** E
- D** A

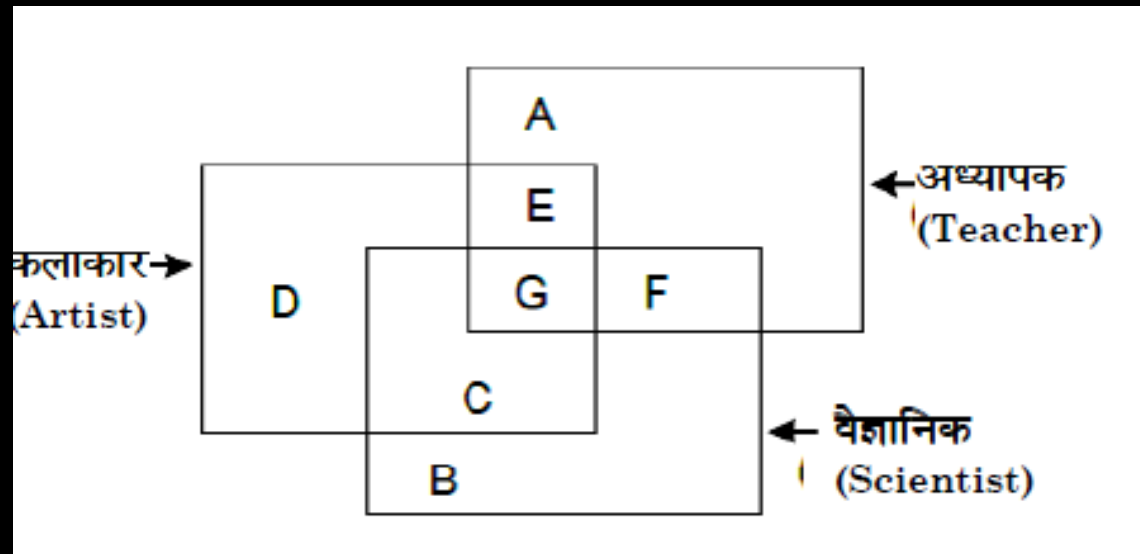


19. वेन आरेख (VENN - DIAGRAM)

NMMSS - 2022

निम्न चित्र को ध्यानपूर्वक देखें तथा दिए हुए प्रश्नों के उत्तर दें।

6. वे वैज्ञानिक जो अध्यापक और कलाकार हैं, किस अक्षर द्वारा प्रदर्शित किए गए हैं ?

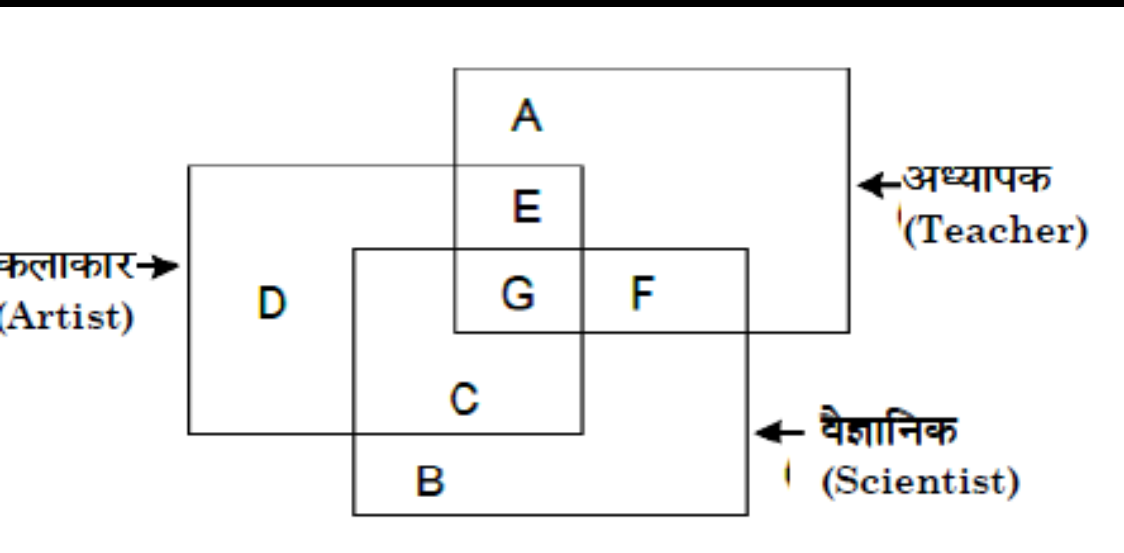


- A** E
- B** G
- C** C
- D** F

19. वेन आरेख (VENN - DIAGRAM)

निम्न चित्र को ध्यानपूर्वक देखें तथा दिए हुए प्रश्नों के उत्तर दें।

7. वे कलाकार जो वैज्ञानिक हैं परन्तु अध्यापक नहीं हैं, किस अक्षर द्वारा प्रदर्शित किए गए हैं ?



A

B

B

D

C

F

D

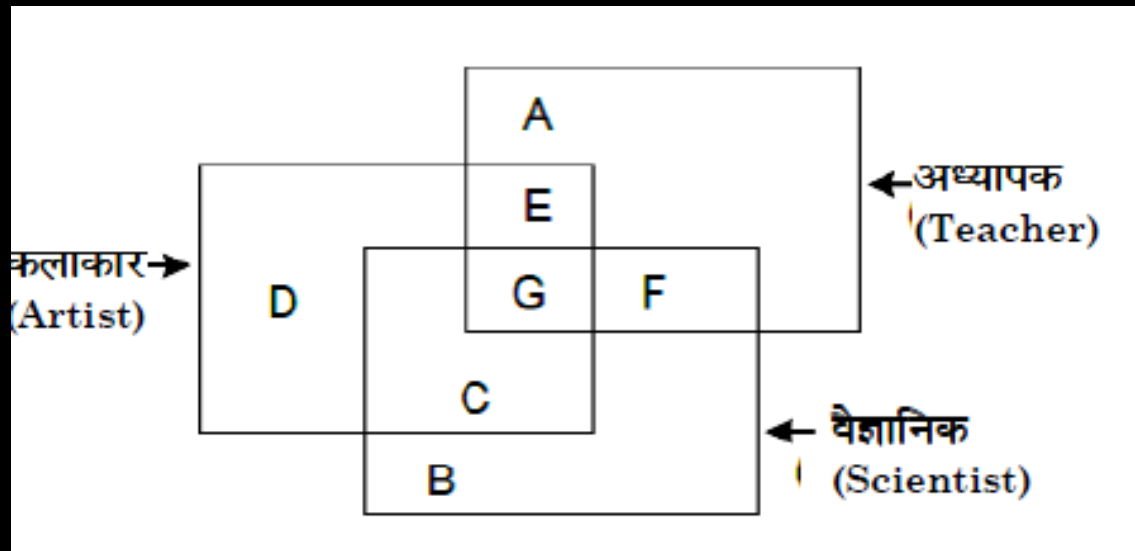
C

19. वेन आरेख (VENN – DIAGRAM)

NMMSS - 2022

निम्न चित्र को ध्यानपूर्वक देखें तथा दिए हुए प्रश्नों के उत्तर दें।

8. वे वैज्ञानिक जो न तो अध्यापक हैं और न ही कलाकार हैं, किस अक्षर द्वारा प्रदर्शित किए गए हैं ?

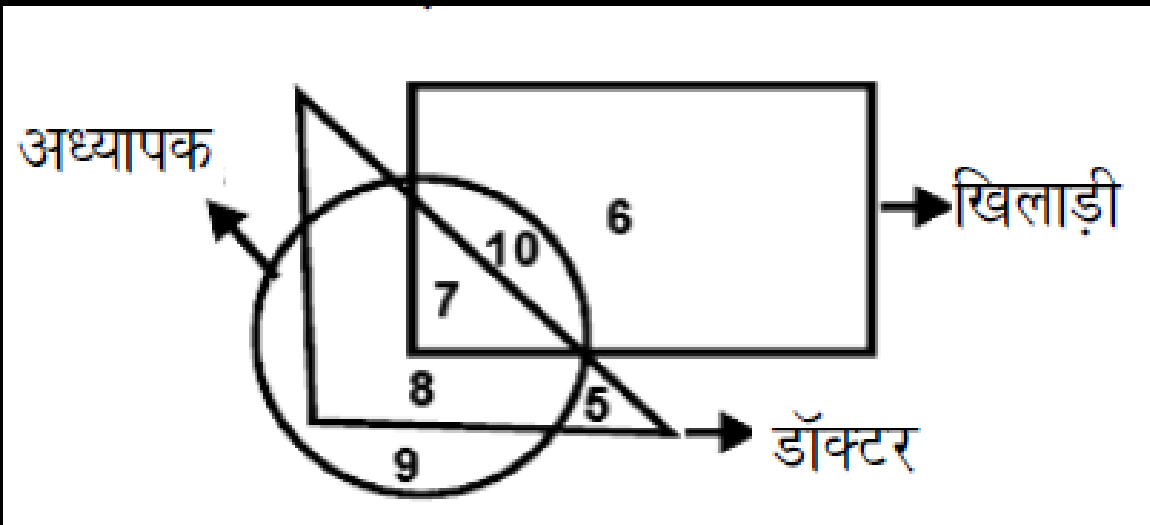


- A** B
- B** D
- C** F
- D** C

19. वेन आरेख (VENN - DIAGRAM)

NMMSS - 2020

9. कौन-सी संख्या खिलाड़ी का प्रतिनिधित्व करती है, जो न तो अध्यापक है और न ही डॉक्टर है ?



- A** 10
- B** 8
- C** 6
- D** 5

19. वेन आरेख (VENN - DIAGRAM)

NMMSS - 2020

10. कौन-सी संख्या अध्यापक का प्रतिनिधित्व करती है, जो खिलाड़ी है परन्तु डॉक्टर नहीं है?

A

10

B

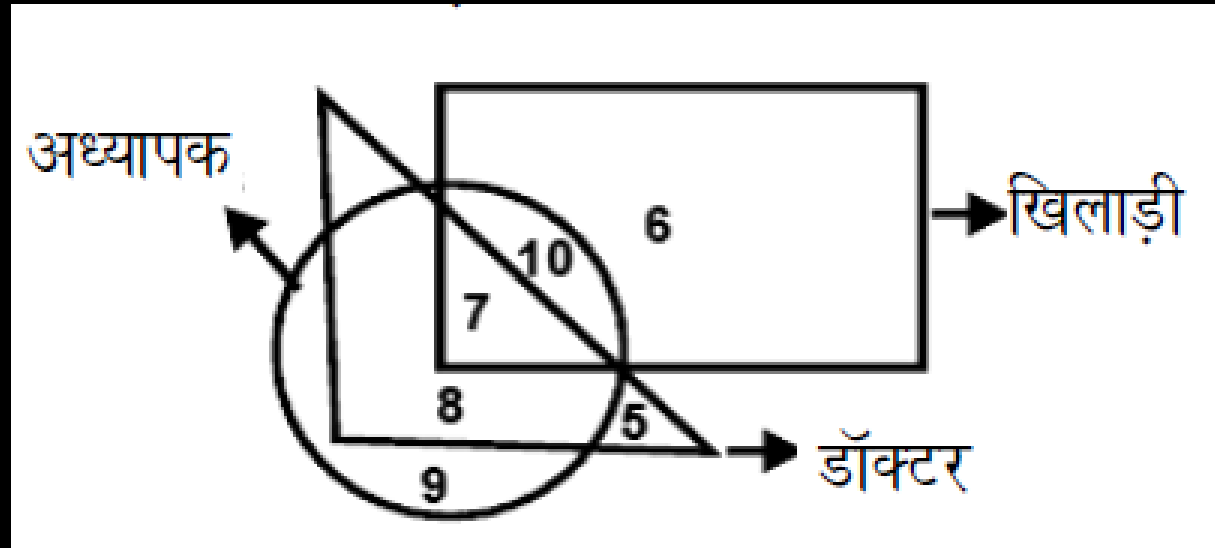
7

C

8

D

9

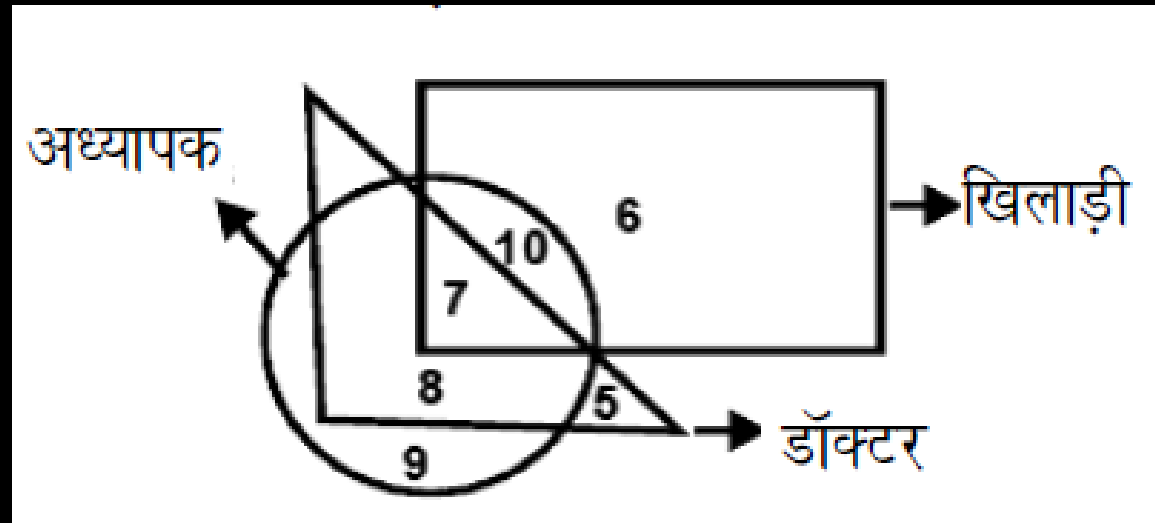


19. वेन आरेख (VENN - DIAGRAM)

NMMSS - 2020

11. कौन-सी संख्या अध्यापक का प्रतिनिधित्व करती है, जो खिलाड़ी और डॉक्टर भी है ?

- A** 7
- B** 10
- C** 5
- D** 9

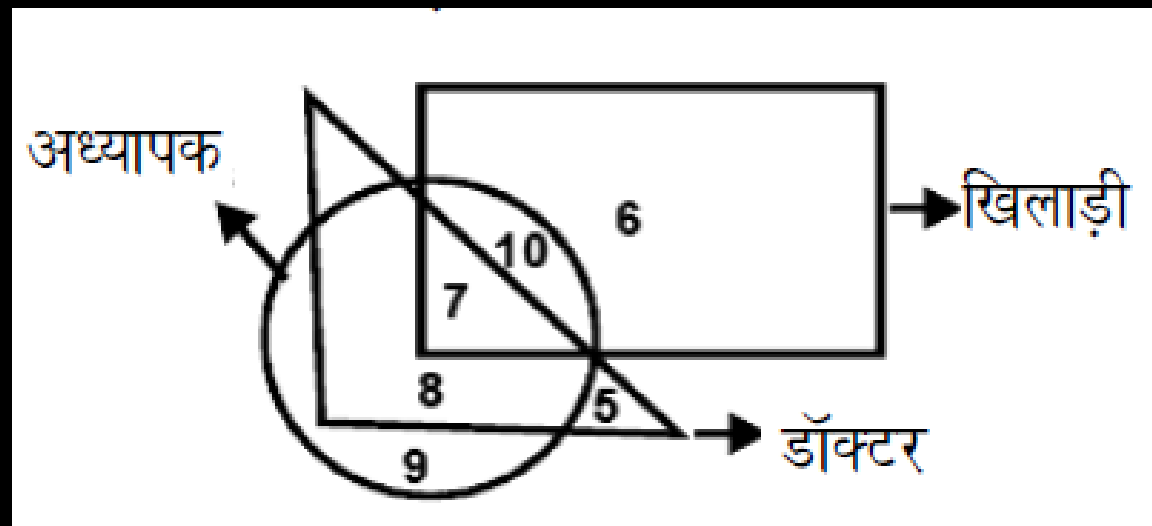


19. वेन आरेख (VENN - DIAGRAM)

NMMSS - 2020

12. कौन-सी संख्या डॉक्टर का प्रतिनिधित्व करती है, जो अध्यापक है परन्तु खिलाड़ी नहीं है ?

- A** 7
- B** 8
- C** 9
- D** 5

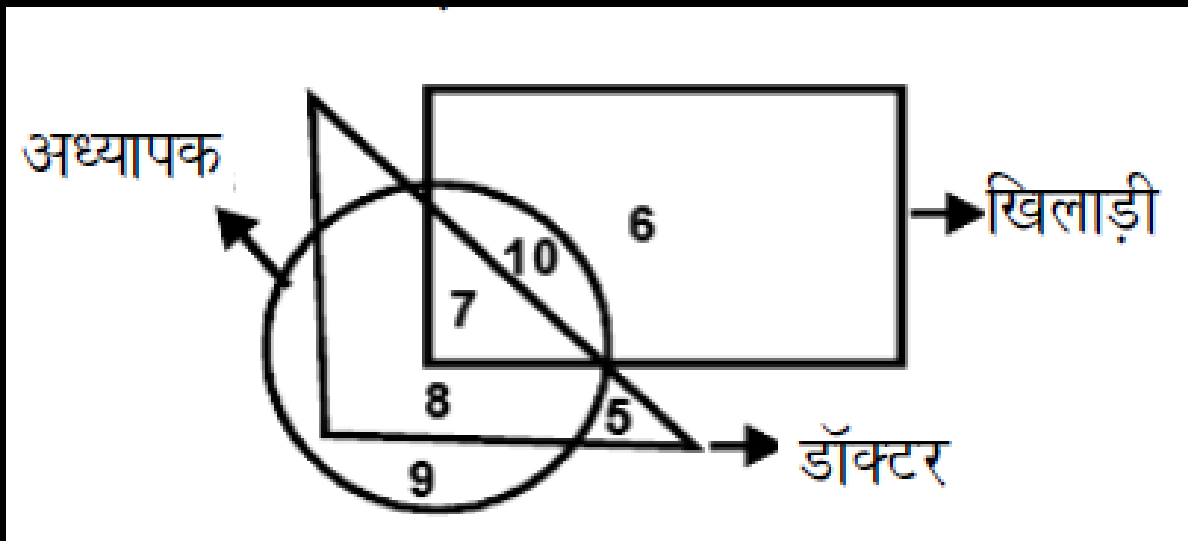


19. वेन आरेख (VENN - DIAGRAM)

NMMSS - 2020

13. कौन-सी संख्या डॉक्टर का प्रतिधित्व करती है, जो न तो खिलाड़ी है और न ही अध्यापक है ?

- A** 6
- B** 9
- C** 8
- D** 5



SUBSCRIBE NOW

IN NEXT CLASS

न्याय निगमन

Syllogism

LIVE @ 8:30PM

 **YouTube**



SUBSCRIBE

MAT PAPERS

SAT

**PREVIOUS EXAM
QUESTIONS**

राष्ट्रीय साधन व योग्यता छात्रवृत्ति NMMSS परीक्षा 2025

20. न्याय निगमन (SYLLOGISM)

PDF

PART - 1 (बौद्धिक योग्यता परीक्षण) **MENTAL ABILITY TEST**

