

**LIVE @ 8:30PM**

 **YouTube**



**SUBSCRIBE**

**MAT PAPERS**

**SAT**

**PREVIOUS EXAM  
QUESTIONS**

# राष्ट्रीय साधन व योग्यता छात्रवृत्ति NMMSS परीक्षा 2025

## 22. श्रृंखला (SERIES)

**PART - 1 (बौद्धिक योग्यता परीक्षण)**  
**MENTAL ABILITY TEST**



## 22. श्रृंखला (SERIES)

## अभाषिक तर्कशक्ति

श्रृंखला सम्बन्धी प्रश्नों को हल करने के लिए मुख्य बिंदु:

### 1. दिशा की पहचान

- **दक्षिणावर्त (Clockwise):** घड़ी की सुई की दिशा में घूमना। उदाहरण: ऊपर → दाएँ → नीचे → बाएँ।
- **वामावर्त (Anticlockwise):** घड़ी की सुई की विपरीत दिशा में घूमना। उदाहरण: ऊपर → बाएँ → नीचे → दाएँ।

## 22. श्रृंखला (SERIES)

## अभाषिक तर्कशक्ति

श्रृंखला सम्बन्धी प्रश्नों को हल करने के लिए मुख्य बिंदु:

2. आकृति का स्थान परिवर्तन

- आकृति हर चरण में किस दिशा में घूम रही है? क्या वह  $90^\circ$ ,  $180^\circ$ , या  $270^\circ$  घूम रही है?
- क्या आकृति का आकार या रंग बदल रहा है?

## 22. श्रृंखला (SERIES)

## अभाषिक तर्कशक्ति

श्रृंखला सम्बन्धी प्रश्नों को हल करने के लिए मुख्य बिंदु:

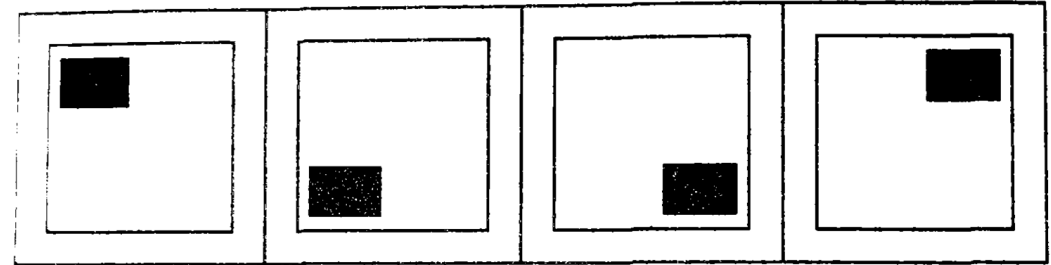
3. संख्या या प्रतीक की वृद्धि/ह्रास

- क्या आकृति में बिंदु, रेखाएँ या अन्य तत्व बढ़ रहे हैं या घट रहे हैं?

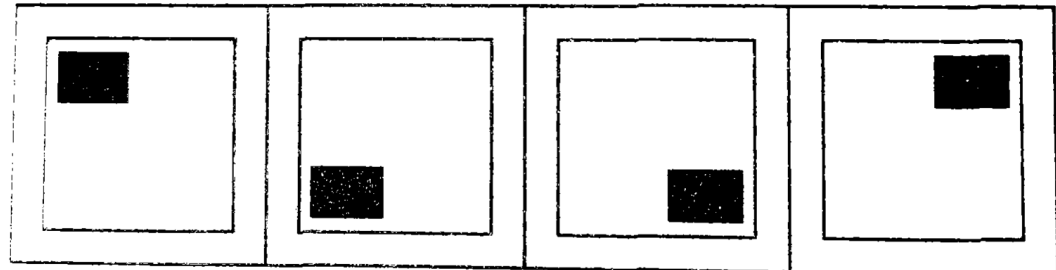
## 22. आकृति निर्माण (SERIES)

1. उत्तर आकृतियों में से ऐसी आकृति का चयन कीजिए, जो इस श्रृंखला को जारी रखें।

प्रश्न आकृतियाँ



उत्तर आकृतियाँ



(a)

(b)

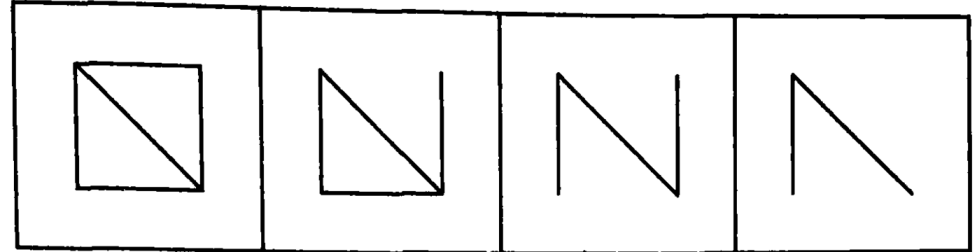
(c)

(d)

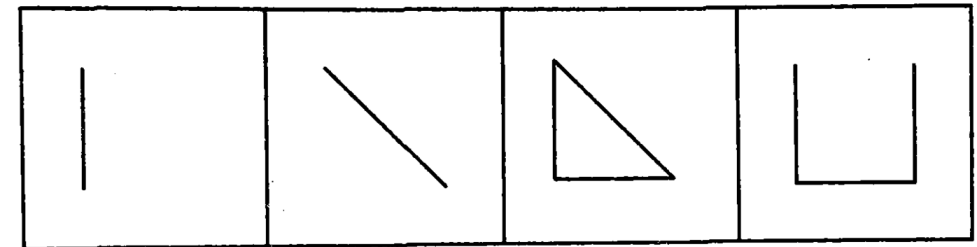
## 22. आकृति निर्माण (SERIES)

2. उत्तर आकृतियों में से ऐसी आकृति का चयन कीजिए, जो इस श्रृंखला को जारी रखें।

प्रश्न आकृतियाँ



उत्तर आकृतियाँ



(a)

(b)

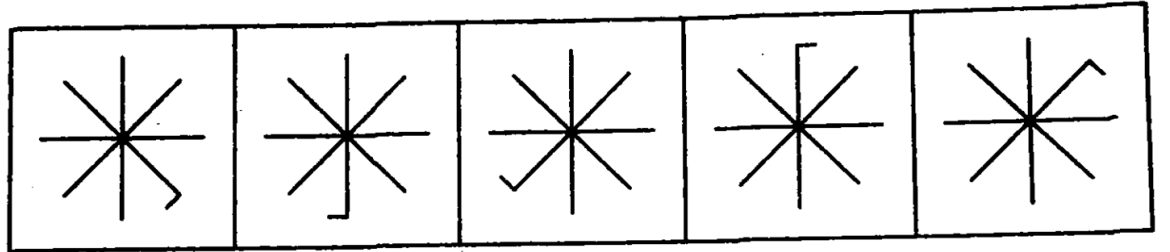
(c)

(d)

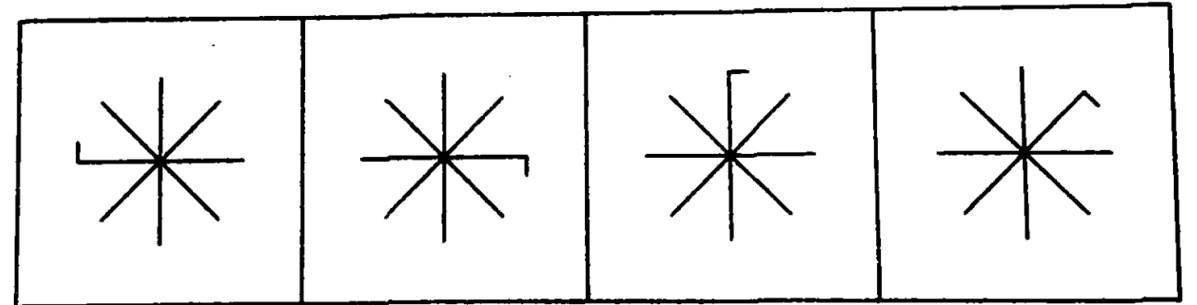
## 22. आकृति निर्माण (SERIES)

3. उत्तर आकृतियों में से ऐसी आकृति का चयन कीजिए, जो इस श्रृंखला को जारी रखें।

प्रश्न आकृतियाँ



उत्तर आकृतियाँ



(a)

(b)

(c)

(d)



LIVE @ 8:30PM



SUBSCRIBE



MAT PAPERS

SAT

PREVIOUS EXAM  
QUESTIONS

# राष्ट्रीय साधन व योग्यता छात्रवृत्ति NMMSS परीक्षा 2025

कक्षा-8



## पाठ्यक्रम का सम्पूर्ण कवरेज...

भाग 1 मानसिक योग्यता परीक्षण (**MAT**)

भाग 2 शैक्षिक क्षमता परीक्षण (**SAT**) विज्ञान • गणित सामाजिक विज्ञान



# PYQ 2024 TO 2014

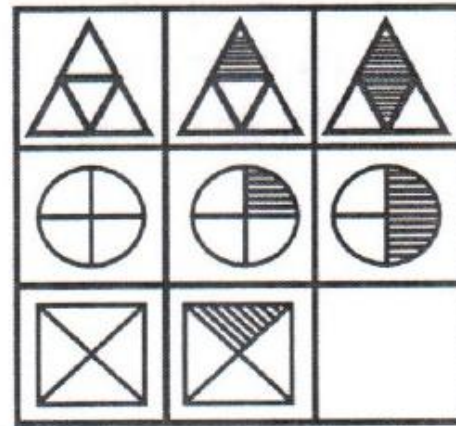


## 22. आकृति निर्माण (SERIES)

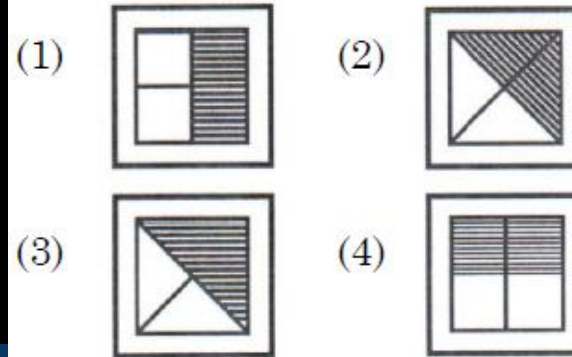
NMMSS 2024

1. उत्तर आकृतियों में से ऐसी आकृति का चयन कीजिए, जो इस श्रृंखला को जारी रखें।

प्रश्न आकृति :



उत्तर आकृतियाँ :

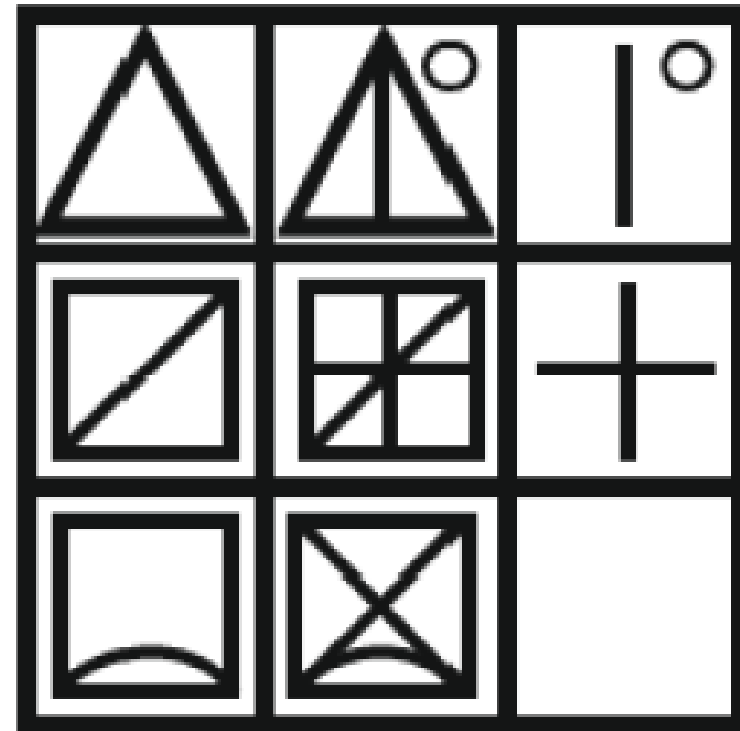


## 22. आकृति निर्माण (SERIES)

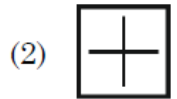
NMMSS 2024

2. उत्तर आकृतियों में से ऐसी आकृति का चयन कीजिए, जो इस श्रृंखला को जारी रखें।

प्रश्न आकृति :



उत्तर आकृतियाँ :

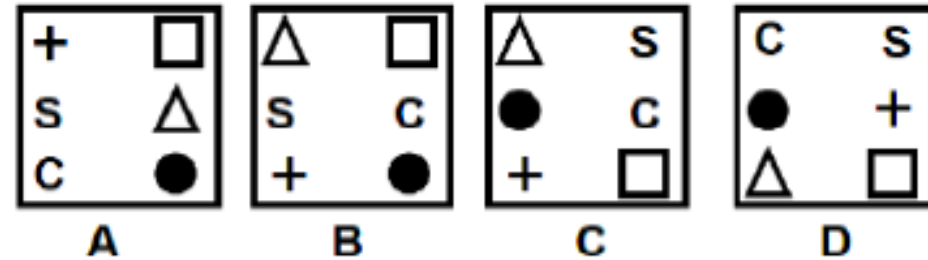


## 22. आकृति निर्माण (SERIES)

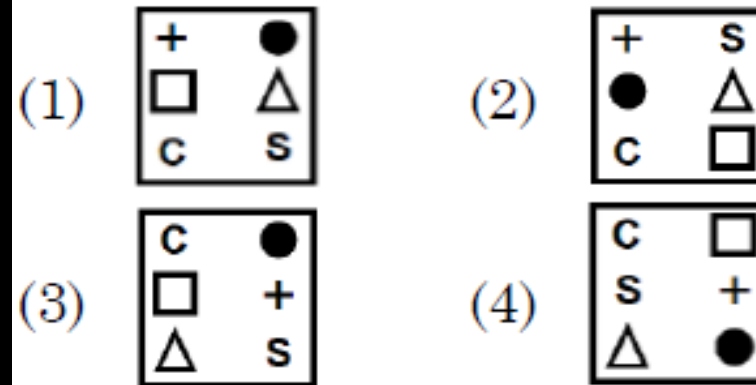
NMMSS 2023

3. उत्तर आकृतियों में से ऐसी आकृति का चयन कीजिए, जो इस श्रृंखला को जारी रखें।

प्रश्न आकृतियाँ :



उत्तर आकृतियाँ :

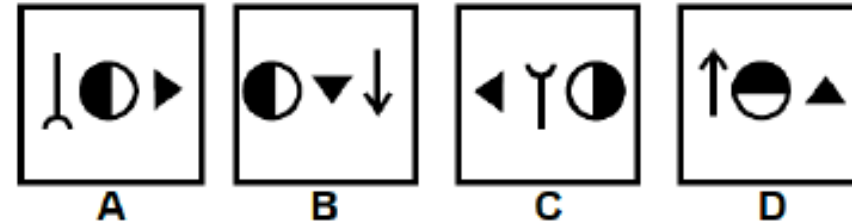


## 22. आकृति निर्माण (SERIES)

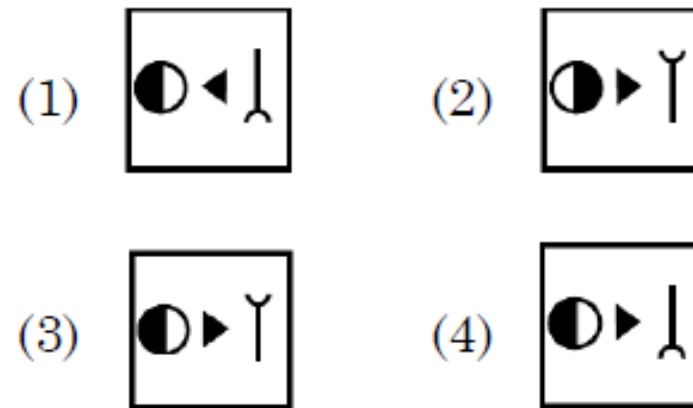
NMMSS 2023

4. उत्तर आकृतियों में से ऐसी आकृति का चयन कीजिए, जो इस श्रृंखला को जारी रखें।

प्रश्न आकृतियाँ :



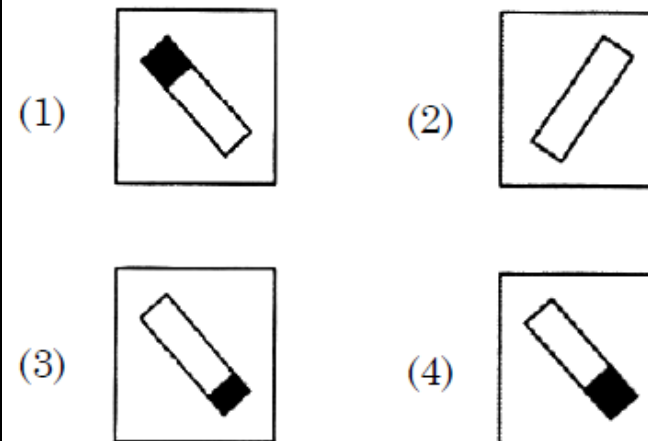
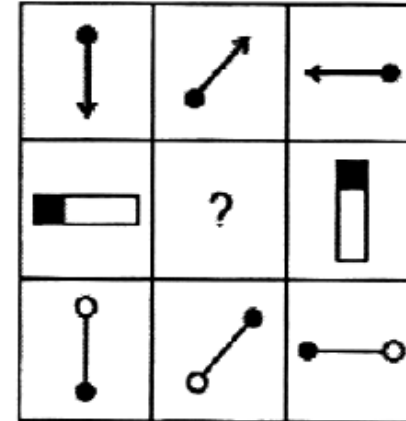
उत्तर आकृतियाँ :



## 22. आकृति निर्माण (SERIES)

NMMSS 2022

5. उत्तर आकृतियों में से ऐसी आकृति का चयन कीजिए, जो इस श्रृंखला को जारी रखें।

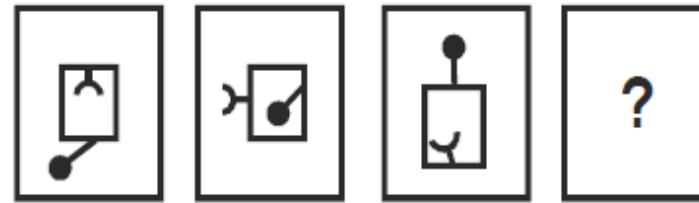


## 22. आकृति निर्माण (SERIES)

NMMSS 2018

6. उत्तर आकृतियों में से ऐसी आकृति का चयन कीजिए, जो इस श्रृंखला को जारी रखें।

समस्या चित्र



A

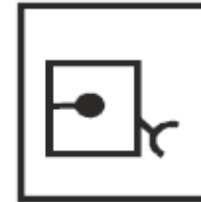
B

C

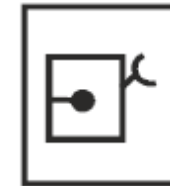
D

उत्तर चित्र

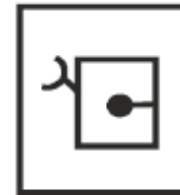
(1)



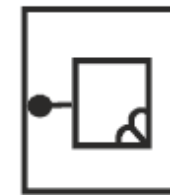
(2)



(3)



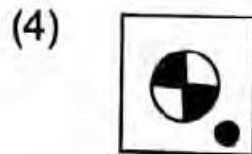
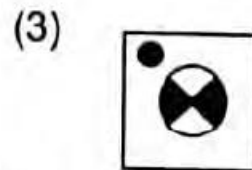
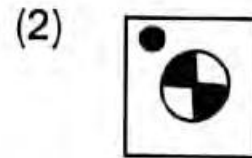

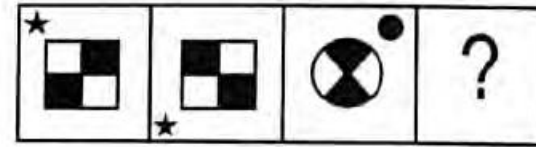
(4)



## 22. आकृति निर्माण (SERIES)

NMMSS 2017

7. उत्तर आकृतियों में से ऐसी आकृति का चयन कीजिए, जो इस श्रृंखला को जारी रखें।

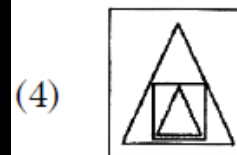
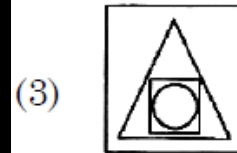
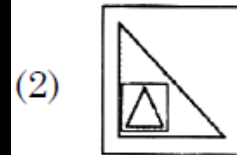
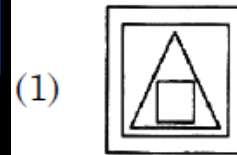
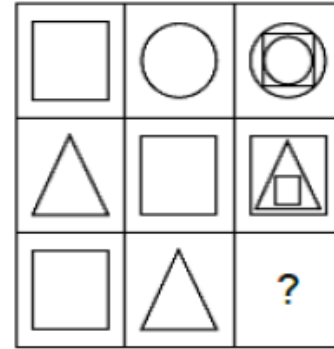




## 22. आकृति निर्माण (SERIES)

NMMSS 2022

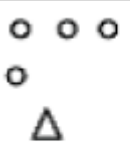

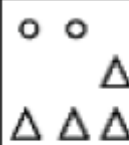





8. उत्तर आकृतियों में से ऐसी आकृति का चयन कीजिए, जो इस श्रृंखला को जारी रखें।




## 22. आकृति निर्माण (SERIES)

NMMSS 2022

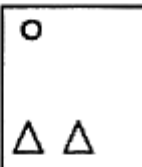
9. उत्तर आकृतियों में से ऐसी आकृति का चयन कीजिए, जो इस श्रृंखला को जारी रखें।

		
		
		<p style="font-size: 2em; color: blue;">?</p>

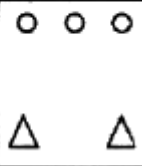
(1)




(2)



(3)



(4)

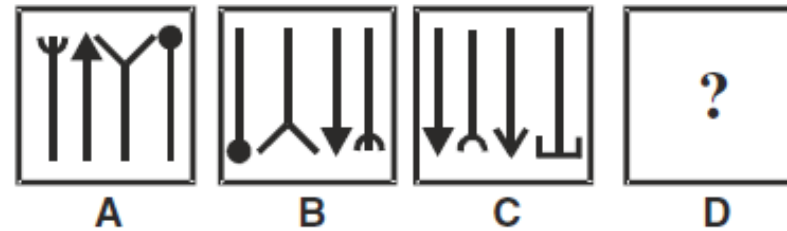


## 22. आकृति निर्माण (SERIES)

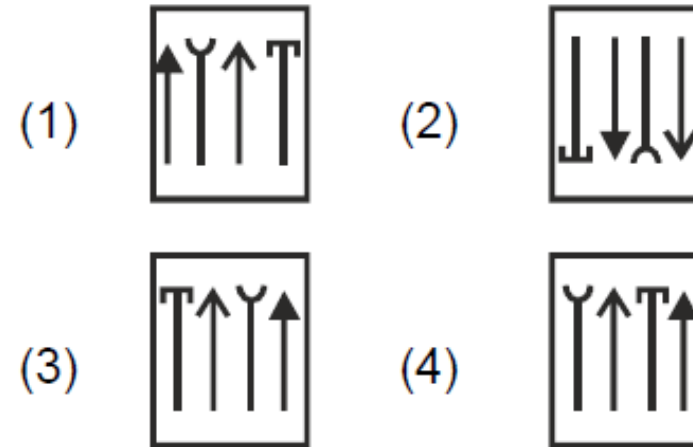
NMMSS 2018

**10. उत्तर आकृतियों में से ऐसी आकृति का चयन कीजिए, जो इस श्रृंखला को जारी रखें।**

समस्या चित्र



उत्तर चित्र



**LIVE @ 8:30PM**

 **YouTube**



**SUBSCRIBE**

**MAT PAPERS**

**SAT**

**PREVIOUS EXAM  
QUESTIONS**

**राष्ट्रीय साधन व योग्यता छात्रवृत्ति  
NMMSS परीक्षा 2025**



**23. आकृति पूर्ति  
(FIGURE COMPLETION)**



**PART - 1 (बौद्धिक योग्यता परीक्षण)  
MENTAL ABILITY TEST**